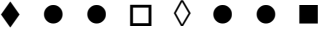




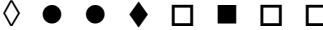


1.	<p>Dove nacque Pirandello?</p> <p>a) Agrigento</p> <p>b) Milano</p> <p>c) Napoli</p>																		
2.	<p>Stabiliti i valori di seguito riportati, individuate quale delle tre operazioni con tali valori dà come risultato il numero riportato fra parentesi tonde. Date la risposta annerendo la casella corrispondente.</p> <p>5 2 7 (14)</p> <p>a) $7 + 5 + 2$</p> <p>b) $7 - 2 + 5$</p> <p>c) $2 - (7 : 5)$</p>																		
3.	<p>Individuate in quale delle righe da (a) a (c) i due insiemi di simboli non sono formati esattamente dagli stessi elementi, anche se diversamente disposti. Date la risposta annerendo la casella corrispondente.</p> <p>a) ● ■ ■ ◆ ■ ◆ ● ■</p> <p>b) ● ◇ ● □ ● ◇ □ ●</p> <p>c) ■ ◆ ◇ ● ● ■ □ ◆</p>																		
4.	<p>Individuate, fra le tre alternative proposte, la parola di significato contrario al termine riportato in alto. Date la risposta annerendo la casella corrispondente.</p> <p><i>INDULGENTE</i></p> <p>a) SEVERO</p> <p>b) VERSATILE</p> <p>c) CONTORTO</p>																		
5.	<p>Qual è lo Stato più piccolo d'Europa?</p> <p>a) Liechtenstein</p> <p>b) Città del Vaticano</p> <p>c) Principato di Monaco</p>																		
6.	<p>Basandovi sulla successione delle lettere dell'alfabeto italiano, individuate quale delle alternative da (a) a (c) può logicamente sostituire il punto di domanda, o uno dei punti di domanda, nel gruppo di lettere riportato di seguito. Date la risposta annerendo la casella corrispondente.</p> <table style="width: 100%; text-align: center;"> <tr> <td></td> <td>B</td> <td>E</td> <td>H</td> <td>M</td> <td></td> </tr> <tr> <td>A</td> <td>?</td> <td>G</td> <td>L</td> <td>O</td> <td></td> </tr> <tr> <td></td> <td>C</td> <td>F</td> <td>I</td> <td>?</td> <td></td> </tr> </table> <p>a) F</p> <p>b) C</p> <p>c) D</p>		B	E	H	M		A	?	G	L	O			C	F	I	?	
	B	E	H	M															
A	?	G	L	O															
	C	F	I	?															

7.	<p>Come morì Maximilien de Robespierre?</p> <p>a) Avvelenato</p> <p>b) Ghigliottinato</p> <p>c) Accoltellato</p>
8.	<p>Individuate in quale delle righe da (a) a (c) i due insiemi di simboli non sono formati esattamente dagli stessi elementi, anche se diversamente disposti. Date la risposta annerendo la casella corrispondente.</p> <p>a) ● ■ ● ● ◆ ● ◆ ● ■ ●</p> <p>b) ◇ ■ ◆ □ ● ■ ● □ ● ◇</p> <p>c) ■ ■ □ ◇ ■ □ ■ ■ ■ ◇</p>
9.	<p>Individuate, fra le tre alternative proposte, la parola di significato contrario al termine riportato in alto. Date la risposta annerendo la casella corrispondente.</p> <p>IMPAVIDO</p> <p>a) INVISO</p> <p>b) PAUROSO</p> <p>c) INERTE</p>
10.	<p>Il 'Cantico delle creature' è un testo poetico scritto intorno al 1225 da...</p> <p>a) Francesco d'Assisi</p> <p>b) Francesco Petrarca</p> <p>c) Guittone d'Arezzo</p>
11.	<p>Basandovi sulla successione delle lettere dell'alfabeto italiano, individuate quale delle alternative da (a) a (c) può logicamente sostituire il punto di domanda, o uno dei punti di domanda, nel gruppo di lettere riportato di seguito. Date la risposta annerendo la casella corrispondente.</p> <p style="text-align: center;"> B D F H ? N P R ? V </p> <p>a) L</p> <p>b) U</p> <p>c) I</p>
12.	<p>Stabiliti i valori di seguito riportati, individuate quale delle tre operazioni con tali valori dà come risultato il numero riportato fra parentesi tonde. Date la risposta annerendo la casella corrispondente.</p> <p>$2 \mid 5 \mid 4 \mid 1 \quad (-6)$</p> <p>a) $4 - 2 \times (5 + 1)$</p> <p>b) $5 + 4 - 1 + 2$</p> <p>c) $4 - (2 : 1) \times 5$</p>

13.	<p>Individuate, fra le tre alternative proposte, la parola di significato contrario al termine riportato in alto. Date la risposta annerendo la casella corrispondente.</p> <p>INCENSURATO</p> <p>a) DEVOTO</p> <p>b) SPAVALDO</p> <p>c) PREGIUDICATO</p>
14.	<p>John Fitzgerald Kennedy venne assassinato nel...</p> <p>a) 1963</p> <p>b) 1972</p> <p>c) 1957</p>
15.	<p>Basandovi sulla successione delle lettere dell'alfabeto italiano, individuate quale delle alternative da (a) a (c) può logicamente sostituire il punto di domanda, o uno dei punti di domanda, nel gruppo di lettere riportato di seguito. Date la risposta annerendo la casella corrispondente.</p> <div style="text-align: center; margin: 10px 0;"> L N I O H P G ? F R ? S D </div> <p>a) M</p> <p>b) L</p> <p>c) Q</p>
16.	<p>Stabiliti i valori di seguito riportati, individuate quale delle tre operazioni con tali valori dà come risultato il numero riportato fra parentesi tonde. Date la risposta annerendo la casella corrispondente.</p> <p>$8 \mid 2 \mid 7 \mid 3 \quad (17)$</p> <p>a) $(7 + 3 - 8) \times 2$</p> <p>b) $(8 - 2) \times 3 - 7$</p> <p>c) $(7 \times 3) - (8 : 2)$</p>
17.	<p>Individuate in quale delle righe da (a) a (c) i due insiemi di simboli non sono formati esattamente dagli stessi elementi, anche se diversamente disposti. Date la risposta annerendo la casella corrispondente.</p> <div style="display: flex; justify-content: space-between; margin-top: 10px;"> <div style="width: 45%;"> <p>a) ● ◆ □ ■ ● ◇ ◆</p> <p>b) ● □ □ □ ■ ◆ ◇</p> <p>c) ● □ ■ ● ◇ ◆ ●</p> </div> <div style="width: 45%;"> <p>◇ ■ ● □ ◇ ◆ ●</p> <p>◆ □ ● □ ■ ◇ □</p> <p>■ ● ● ◆ □ ● ◇</p> </div> </div>
18.	<p>Dove si sviluppò il movimento politico chiamato "Cartismo"?</p> <p>a) Germania</p> <p>b) Inghilterra</p> <p>c) Francia</p>

19.	<p>Stabiliti i valori di seguito riportati, individuate quale delle tre operazioni con tali valori dà come risultato il numero riportato fra parentesi tonde. Date la risposta annerendo la casella corrispondente.</p> <p>6 5 8 2 (10)</p> <p>a) $5 + 8 - (6 : 2)$ b) $(6 : 2) \times 5 + 8$ c) $(8 + 6 - 5) \times 2$</p>
20.	<p>Individuate in quale delle righe da (a) a (c) i due insiemi di simboli non sono formati esattamente dagli stessi elementi, anche se diversamente disposti. Date la risposta annerendo la casella corrispondente.</p> <p>a)  </p> <p>b)  </p> <p>c)  </p>
21.	<p>Individuate, fra le tre alternative proposte, la parola di significato contrario al termine riportato in alto. Date la risposta annerendo la casella corrispondente.</p> <p>MENDACE</p> <p>a) VERITIERO b) VIVACE c) INCONSUETO</p>
22.	<p>Il Triangolo delle Bermude si trova...</p> <p>a) nell'oceano Atlantico b) nell'oceano Indiano c) nell'oceano Pacifico</p>
23.	<p>Basandovi sulla successione delle lettere dell'alfabeto italiano, individuate quale delle alternative da (a) a (c) può logicamente sostituire il punto di domanda, o uno dei punti di domanda, nel gruppo di lettere riportato di seguito. Date la risposta annerendo la casella corrispondente.</p> <p style="text-align: center;"> A F M R Z E ? Q V D ? P </p> <p>a) N b) L c) S</p>
24.	<p>Joann Gutenberg è diventato famoso per...</p> <p>a) aver tradotto e trascritto l'Iliade e l'Odissea b) aver interpretato la scrittura cuneiforme c) aver inventato la stampa a caratteri mobili</p>




25.	<p>Individuate in quale delle righe da (a) a (c) i due insiemi di simboli non sono formati esattamente dagli stessi elementi, anche se diversamente disposti. Date la risposta annerendo la casella corrispondente.</p> <p>a) ● ● ● ● □ □ ◇ ◇ ● ● ● □ ◇ ● □ ◇</p> <p>b) □ ● □ ● □ ● ◇ ◆ ● ● ● ◇ □ □ ◆ ●</p> <p>c) ◇ ◇ ◇ ■ □ ● ● ● ● ■ ◇ ◇ ● □ ● ◇</p>
26.	<p>Individuate, fra le tre alternative proposte, la parola di significato contrario al termine riportato in alto. Date la risposta annerendo la casella corrispondente.</p> <p><i>INDIGENZA</i></p> <p>a) OPULENZA</p> <p>b) DIGERIBILITÀ</p> <p>c) TURBOLENZA</p>
27.	<p>Quando cadde il muro di Berlino, che divise per 28 anni la Germania Est da quella dell'Ovest?</p> <p>a) 1989</p> <p>b) 1992</p> <p>c) 1971</p>
28.	<p>Basandovi sulla successione delle lettere dell'alfabeto italiano, individuate quale delle alternative da (a) a (c) può logicamente sostituire il punto di domanda, o uno dei punti di domanda, nel gruppo di lettere riportato di seguito. Date la risposta annerendo la casella corrispondente.</p> <p style="text-align: center;">M T V ? C</p> <p style="text-align: center;"> I G E</p> <p style="text-align: center;"> O ? S U</p> <p>a) A</p> <p>b) E</p> <p>c) N</p>
29.	<p>Stabiliti i valori di seguito riportati, individuate quale delle tre operazioni con tali valori dà come risultato il numero riportato fra parentesi tonde. Date la risposta annerendo la casella corrispondente.</p> <p>6 3 1 9 (2,5)</p> <p>a) $(6 : 3) - (9 \times 1)$</p> <p>b) $(1 \times 9) \times 3 - 6$</p> <p>c) $3 + 1 - (9 : 6)$</p>
30.	<p>Quale tra questi non è un pesce di mare?</p> <p>a) Luccio</p> <p>b) Tonno</p> <p>c) Merluzzo</p>

31.	<p>Individuate, fra le tre alternative proposte, la parola di significato contrario al termine riportato in alto. Date la risposta annerendo la casella corrispondente.</p> <p><i>SAPIDO</i></p> <p>a) STOLTO</p> <p>b) SCIPITO</p> <p>c) INESPERTO</p>
32.	<p>Indica il sinonimo di 'Ineluttabile'...</p> <p>a) Indicibile</p> <p>b) Insopportabile</p> <p>c) Inevitabile</p>
33.	<p>Basandovi sulla successione delle lettere dell'alfabeto italiano, individuate quale delle alternative da (a) a (c) può logicamente sostituire il punto di domanda, o uno dei punti di domanda, nel gruppo di lettere riportato di seguito. Date la risposta annerendo la casella corrispondente.</p> <div style="text-align: center; margin: 10px 0;"> C A U Z D B T ? </div> <div style="text-align: center; margin: 10px 0;"> E S F R </div> <p>a) Q</p> <p>b) V</p> <p>c) O</p>
34.	<p>Stabiliti i valori di seguito riportati, individuate quale delle tre operazioni con tali valori dà come risultato il numero riportato fra parentesi tonde. Date la risposta annerendo la casella corrispondente.</p> <p>7 10 3 4 (19)</p> <p>a) $(3 \times 7) - (10 : 4)$</p> <p>b) $10 - 7 + (4 \times 3)$</p> <p>c) $(10 \times 3) - 7 - 4$</p>
35.	<p>Quale fu la prima Capitale d'Italia?</p> <p>a) Genova</p> <p>b) Roma</p> <p>c) Torino</p>
36.	<p>Individuate in quale delle righe da (a) a (c) i due insiemi di simboli non sono formati esattamente dagli stessi elementi, anche se diversamente disposti. Date la risposta annerendo la casella corrispondente.</p> <div style="display: flex; justify-content: space-between; margin-top: 10px;"> <div style="width: 45%;"> <p>a) ● ◆ □ □ ◇ ◆ ● ■ □ ◇</p> <p>b) □ ■ ◆ ■ ● ◇ ◇ ● ● □</p> <p>c) ■ ■ ■ ◇ □ ◆ ◆ ● ● □</p> </div> <div style="width: 45%;"> <p>◆ ◆ □ ● ◇ □ □ ● ■ □</p> <p>● ◇ □ ■ ◇ ◆ ● □ ■ ●</p> <p>□ □ ■ ◆ ◇ ● ■ ◆ ● ■</p> </div> </div>

37.	<p>Come si chiama il poeta che accompagna Dante nella Divina Commedia?</p> <p>a) Virgilio</p> <p>b) Platone</p> <p>c) Aristotele</p>
38.	<p>Basandovi sulla successione delle lettere dell'alfabeto italiano, individuate quale delle alternative da (a) a (c) può logicamente sostituire il punto di domanda, o uno dei punti di domanda, nel gruppo di lettere riportato di seguito. Date la risposta annerendo la casella corrispondente.</p> <div style="text-align: center;"> U R O L G D A U ? O L G </div> <p>a) L</p> <p>b) R</p> <p>c) S</p>
39.	<p>Stabiliti i valori di seguito riportati, individuate quale delle tre operazioni con tali valori dà come risultato il numero riportato fra parentesi tonde. Date la risposta annerendo la casella corrispondente.</p> <p>2 8 11 5 (0)</p> <p>a) $(8 - 11 + 5) \times 2$</p> <p>b) $11 - 5 - (8 - 2)$</p> <p>c) $(8 : 2) \times 5 - 11$</p>
40.	<p>Qual è il passato remoto, prima persona singolare, del verbo "sorvegliare"?</p> <p>a) io sorveglierei</p> <p>b) io ebbi sorvegliato</p> <p>c) io sorvegliai</p>
41.	<p>Individuate in quale delle righe da (a) a (c) i due insiemi di simboli non sono formati esattamente dagli stessi elementi, anche se diversamente disposti. Date la risposta annerendo la casella corrispondente.</p> <div style="display: flex; justify-content: space-between;"> <div style="width: 45%;"> <p>a) ● ■ ■ ● ◇ □ ◆ ◆ ■ □</p> <p>b) ● ● ● □ ● ◇ ◆ ◇ ● ◇</p> <p>c) ■ ◆ ◇ ■ □ □ ◆ ● ● ●</p> </div> <div style="width: 45%;"> <p>■ ● □ ◆ ◇ ■ ● □ ◆ ■</p> <p>● ● ● ◆ ● ◇ ◇ ● ◇ □</p> <p>□ ● ● ◆ ■ ◇ □ ● ● ■</p> </div> </div>
42.	<p>Individuate, fra le tre alternative proposte, la parola di significato contrario al termine riportato in alto. Date la risposta annerendo la casella corrispondente.</p> <p style="text-align: center;">MANUALE</p> <p>a) MANIFATTURIERO</p> <p>b) MECCANICO</p> <p>c) SPETTRALE</p>







43.	<p>L'Orlando Furioso è stato scritto da...</p> <p>a) Ariosto</p> <p>b) Petrarca</p> <p>c) Leopardi</p>
44.	<p>Basandovi sulla successione delle lettere dell'alfabeto italiano, individuate quale delle alternative da (a) a (c) può logicamente sostituire il punto di domanda, o uno dei punti di domanda, nel gruppo di lettere riportato di seguito. Date la risposta annerendo la casella corrispondente.</p> <div style="text-align: center; margin: 10px 0;"> H ? ? B </div> <div style="text-align: center; margin: 10px 0;"> D R G U </div> <div style="text-align: center; margin: 10px 0;"> N C Q F </div> <p>a) I</p> <p>b) V</p> <p>c) Z</p>
45.	<p>Stabiliti i valori di seguito riportati, individuate quale delle tre operazioni con tali valori dà come risultato il numero riportato fra parentesi tonde. Date la risposta annerendo la casella corrispondente.</p> <p style="margin-left: 20px;">4 7 3 1 8 (0)</p> <p>a) $(7 - 4) \times 3 - (8 + 1)$</p> <p>b) $8 - (7 - 3) \times 4 - 1$</p> <p>c) $(8 : 4) \times 7 - 3 + 1$</p>
46.	<p>La città di Taranto si affaccia...</p> <p>a) sul mare Ionio</p> <p>b) sul mare Adriatico</p> <p>c) sul mare Tirreno</p>
47.	<p>Individuate in quale delle righe da (a) a (c) i due insiemi di simboli non sono formati esattamente dagli stessi elementi, anche se diversamente disposti. Date la risposta annerendo la casella corrispondente.</p> <div style="display: flex; justify-content: space-between; margin-top: 10px;"> <div style="width: 45%;"> <p>a) ■ ■ ◇ ● ◆ ● ■ ■ ■ □ ◇</p> <p>b) ◆ ◆ ● □ ◇ ■ ■ ● □ ◇ ◆</p> <p>c) □ ◇ ● ● ◆ ◇ ● ● ● ■ □</p> </div> <div style="width: 45%;"> <p>◇ ◇ ■ ■ □ ■ ■ ● ■ ◆ ●</p> <p>● ◇ ◇ ◆ □ ■ ◇ ● ◆ □ ■</p> <p>◇ ■ ● ● ● ● ◇ □ □ ● ◆</p> </div> </div>
48.	<p>Individuate, fra le tre alternative proposte, la parola di significato contrario al termine riportato in alto. Date la risposta annerendo la casella corrispondente.</p> <p style="text-align: center; margin: 10px 0;"><i>IMPERVIO</i></p> <p>a) ACCESSIBILE</p> <p>b) IMPRATICABILE</p> <p>c) INGENTE</p>







49.	<p>In quale anno l'Italia è entrata a far parte dell'ONU?</p> <p>a) 1955</p> <p>b) 1969</p> <p>c) 1944</p>
50.	<p>Basandovi sulla successione delle lettere dell'alfabeto italiano, individuate quale delle alternative da (a) a (c) può logicamente sostituire il punto di domanda, o uno dei punti di domanda, nel gruppo di lettere riportato di seguito. Date la risposta annerendo la casella corrispondente.</p> <div style="text-align: center;"> <p>V S P M</p> <p>Z ? Q N</p> <p>U R O ?</p> </div> <p>a) L</p> <p>b) Q</p> <p>c) H</p>
51.	<p>Stabiliti i valori di seguito riportati, individuate quale delle tre operazioni con tali valori dà come risultato il numero riportato fra parentesi tonde. Date la risposta annerendo la casella corrispondente.</p> <p>12 5 9 1 3 (11)</p> <p>a) $(9 : 3) \times 5 - 12 + 1$</p> <p>b) $12 - 5 \times (3 - 1) + 9$</p> <p>c) $(9 \times 5) \times 1 - (12 - 3)$</p>
52.	<p>Individuate in quale delle righe da (a) a (c) i due insiemi di simboli non sono formati esattamente dagli stessi elementi, anche se diversamente disposti. Date la risposta annerendo la casella corrispondente.</p> <div style="display: flex; justify-content: space-between;"> <div style="width: 45%;"> <p>a) </p> <p>b) </p> <p>c) </p> </div> <div style="width: 45%;"> <p> </p> <p> </p> <p> </p> </div> </div>
53.	<p>Individuate, fra le tre alternative proposte, la parola di significato contrario al termine riportato in alto. Date la risposta annerendo la casella corrispondente.</p> <p style="text-align: center;"><i>CEDEVOL</i></p> <p>a) RESISTENTE</p> <p>b) INVISO</p> <p>c) ATTINENTE</p>
54.	<p>Quanti furono i re di Roma?</p> <p>a) 2</p> <p>b) 9</p> <p>c) 7</p>







55.	<p>Basandovi sulla successione delle lettere dell'alfabeto italiano, individuate quale delle alternative da (a) a (c) può logicamente sostituire il punto di domanda, o uno dei punti di domanda, nel gruppo di lettere riportato di seguito. Date la risposta annerendo la casella corrispondente.</p> <p style="text-align: center;"> A B E F </p> <p style="text-align: center;"> ? L O P S </p> <p style="text-align: center;"> T Z A D </p> <p>a) D b) I c) H</p>
56.	<p>Stabiliti i valori di seguito riportati, individuate quale delle tre operazioni con tali valori dà come risultato il numero riportato fra parentesi tonde. Date la risposta annerendo la casella corrispondente.</p> <p>$7 \mid 2 \mid 15 \mid 4 \mid 6 \quad (8,5)$</p> <p>a) $(15 - 4 + 6 - 7) \times 2$ b) $15 - (6 : 2) \times 4 + 7$ c) $2 + 15 - 7 - (6 : 4)$</p>
57.	<p>Vienna è nota per avere ospitato...</p> <p>a) molti tra i maggiori compositori del XVIII e del XIX secolo b) i maggiori artigiani tessili del mondo c) la più grande fiera di tappi in sughero del mondo</p>
58.	<p>Individuate in quale delle righe da (a) a (c) i due insiemi di simboli non sono formati esattamente dagli stessi elementi, anche se diversamente disposti. Date la risposta annerendo la casella corrispondente.</p> <p>a) </p> <p>b) </p> <p>c) </p>
59.	<p>Individuate, fra le tre alternative proposte, la parola di significato contrario al termine riportato in alto. Date la risposta annerendo la casella corrispondente.</p> <p style="text-align: center;"><i>DILIGENZA</i></p> <p>a) NEGLIGENZA b) APPARENZA c) INSOLENZA</p>
60.	<p>L'Osservatorio di Greenwich si trova in...</p> <p>a) Germania b) Nuova Zelanda c) Inghilterra</p>




1.	<p>Quale tra questi non è un pesce di mare?</p> <p>a) Luccio</p> <p>b) Tonno</p> <p>c) Merluzzo</p>
2.	<p>Basandovi sulla successione delle lettere dell'alfabeto italiano, individuate quale delle alternative da (a) a (c) può logicamente sostituire il punto di domanda, o uno dei punti di domanda, nel gruppo di lettere riportato di seguito. Date la risposta annerendo la casella corrispondente.</p> <p style="text-align: center;"> U R O L G D A U ? O L G </p> <p>a) L</p> <p>b) R</p> <p>c) S</p>
3.	<p>Qual è il passato remoto, prima persona singolare, del verbo "sorvegliare"?</p> <p>a) io sorveglierei</p> <p>b) io ebbi sorvegliato</p> <p>c) io sorvegliai</p>
4.	<p>Stabiliti i valori di seguito riportati, individuate quale delle tre operazioni con tali valori dà come risultato il numero riportato fra parentesi tonde. Date la risposta annerendo la casella corrispondente.</p> <p>$4 \mid 7 \mid 3 \mid 1 \mid 8 \mid (0)$</p> <p>a) $(7 - 4) \times 3 - (8 + 1)$</p> <p>b) $8 - (7 - 3) \times 4 - 1$</p> <p>c) $(8 : 4) \times 7 - 3 + 1$</p>
5.	<p>Individuate, fra le tre alternative proposte, la parola di significato contrario al termine riportato in alto. Date la risposta annerendo la casella corrispondente.</p> <p style="text-align: center;">SAPIDO</p> <p>a) STOLTO</p> <p>b) SCIPITO</p> <p>c) INESPERTO</p>
6.	<p>Individuate in quale delle righe da (a) a (c) i due insiemi di simboli non sono formati esattamente dagli stessi elementi, anche se diversamente disposti. Date la risposta annerendo la casella corrispondente.</p> <p>a) ● ● ● ● □ □ ◇ ◇ ● ● ● □ ◇ ● □ ◇</p> <p>b) □ ● □ ● □ ● ◇ ◆ ● ● ● ◇ □ □ ◆ ●</p> <p>c) ◇ ◇ ◇ ■ □ ● ● ● ● ■ ◇ ◇ ● □ ● ◇</p>

7.	<p>Indica il sinonimo di 'Ineluttabile'...</p> <p>a) Indicibile</p> <p>b) Insopportabile</p> <p>c) Inevitabile</p>
8.	<p>Basandovi sulla successione delle lettere dell'alfabeto italiano, individuate quale delle alternative da (a) a (c) può logicamente sostituire il punto di domanda, o uno dei punti di domanda, nel gruppo di lettere riportato di seguito. Date la risposta annerendo la casella corrispondente.</p> <div style="text-align: center;"> <p>A Z B ?</p> <p>C U D T</p> <p>E S F R</p> </div> <p>a) Q</p> <p>b) V</p> <p>c) O</p>
9.	<p>Stabiliti i valori di seguito riportati, individuate quale delle tre operazioni con tali valori dà come risultato il numero riportato fra parentesi tonde. Date la risposta annerendo la casella corrispondente.</p> <p>5 2 7 (14)</p> <p>a) $7 + 5 + 2$</p> <p>b) $7 - 2 + 5$</p> <p>c) $2 - (7 : 5)$</p>
10.	<p>Come si chiama il poeta che accompagna Dante nella Divina Commedia?</p> <p>a) Virgilio</p> <p>b) Platone</p> <p>c) Aristotele</p>
11.	<p>Individuate in quale delle righe da (a) a (c) i due insiemi di simboli non sono formati esattamente dagli stessi elementi, anche se diversamente disposti. Date la risposta annerendo la casella corrispondente.</p> <div style="display: flex; justify-content: space-between;"> <div style="width: 45%;"> <p>a) ● ◆ □ □ ◇ ◆ ● ■ □ ◇</p> <p>b) □ ■ ◆ ■ ● ◇ ◇ ● ● □</p> <p>c) ■ ■ ■ ◇ □ ◆ ◆ ● ● □</p> </div> <div style="width: 45%;"> <p>◆ ◆ □ ● ◇ □ □ ● ■ □</p> <p>● ◇ □ ■ ◇ ◆ ● □ ■ ●</p> <p>□ □ ■ ◆ ◇ ● ■ ◆ ● ■</p> </div> </div>
12.	<p>Basandovi sulla successione delle lettere dell'alfabeto italiano, individuate quale delle alternative da (a) a (c) può logicamente sostituire il punto di domanda, o uno dei punti di domanda, nel gruppo di lettere riportato di seguito. Date la risposta annerendo la casella corrispondente.</p> <div style="text-align: center;"> <p>T V ? C</p> <p>M I G E</p> <p>O ? S U</p> </div> <p>a) A</p> <p>b) E</p> <p>c) N</p>

13.	<p>Quale fu la prima Capitale d'Italia?</p> <p>a) Genova</p> <p>b) Roma</p> <p>c) Torino</p>
14.	<p>Stabiliti i valori di seguito riportati, individuate quale delle tre operazioni con tali valori dà come risultato il numero riportato fra parentesi tonde. Date la risposta annerendo la casella corrispondente.</p> <p>$12 \mid 5 \mid 9 \mid 1 \mid 3 \quad (11)$</p> <p>a) $(9 : 3) \times 5 - 12 + 1$</p> <p>b) $12 - 5 \times (3 - 1) + 9$</p> <p>c) $(9 \times 5) \times 1 - (12 - 3)$</p>
15.	<p>Individuate, fra le tre alternative proposte, la parola di significato contrario al termine riportato in alto. Date la risposta annerendo la casella corrispondente.</p> <p>INDIGENZA</p> <p>a) OPULENZA</p> <p>b) DIGERIBILITÀ</p> <p>c) TURBOLENZA</p>
16.	<p>Individuate in quale delle righe da (a) a (c) i due insiemi di simboli non sono formati esattamente dagli stessi elementi, anche se diversamente disposti. Date la risposta annerendo la casella corrispondente.</p> <p>a)  </p> <p>b)  </p> <p>c)  </p>
17.	<p>Individuate, fra le tre alternative proposte, la parola di significato contrario al termine riportato in alto. Date la risposta annerendo la casella corrispondente.</p> <p>MANUALE</p> <p>a) MANIFATTURIERO</p> <p>b) MECCANICO</p> <p>c) SPETTRALE</p>
18.	<p>In quale anno l'Italia è entrata a far parte dell'ONU?</p> <p>a) 1955</p> <p>b) 1969</p> <p>c) 1944</p>

19.	<p>Basandovi sulla successione delle lettere dell'alfabeto italiano, individuate quale delle alternative da (a) a (c) può logicamente sostituire il punto di domanda, o uno dei punti di domanda, nel gruppo di lettere riportato di seguito. Date la risposta annerendo la casella corrispondente.</p> <div style="text-align: center;"> <p>V S P M</p> <p>Z ? Q N</p> <p>U R O ?</p> </div> <p>a) L b) Q c) H</p>
20.	<p>La città di Taranto si affaccia...</p> <p>a) sul mare Ionio b) sul mare Adriatico c) sul mare Tirreno</p>
21.	<p>Individuate in quale delle righe da (a) a (c) i due insiemi di simboli non sono formati esattamente dagli stessi elementi, anche se diversamente disposti. Date la risposta annerendo la casella corrispondente.</p> <p>a)  </p> <p>b)  </p> <p>c)  </p>
22.	<p>Individuate, fra le tre alternative proposte, la parola di significato contrario al termine riportato in alto. Date la risposta annerendo la casella corrispondente.</p> <p>IMPERVIO</p> <p>a) ACCESSIBILE b) IMPRATICABILE c) INGENTE</p>
23.	<p>L'Orlando Furioso è stato scritto da...</p> <p>a) Ariosto b) Petrarca c) Leopardi</p>
24.	<p>Stabiliti i valori di seguito riportati, individuate quale delle tre operazioni con tali valori dà come risultato il numero riportato fra parentesi tonde. Date la risposta annerendo la casella corrispondente.</p> <p>2 8 11 5 (0)</p> <p>a) $(8 - 11 + 5) \times 2$ b) $11 - 5 - (8 - 2)$ c) $(8 : 2) \times 5 - 11$</p>

25.	<p>Basandovi sulla successione delle lettere dell'alfabeto italiano, individuate quale delle alternative da (a) a (c) può logicamente sostituire il punto di domanda, o uno dei punti di domanda, nel gruppo di lettere riportato di seguito. Date la risposta annerendo la casella corrispondente.</p> <div style="text-align: center; margin: 10px 0;"> H ? ? B </div> <div style="text-align: center; margin: 10px 0;"> D R G U </div> <div style="text-align: center; margin: 10px 0;"> N C Q F </div> <p>a) I b) V c) Z</p>
26.	<p>Individuate in quale delle righe da (a) a (c) i due insiemi di simboli non sono formati esattamente dagli stessi elementi, anche se diversamente disposti. Date la risposta annerendo la casella corrispondente.</p> <p>a)  </p> <p>b)  </p> <p>c)  </p>
27.	<p>Quando cadde il muro di Berlino, che divise per 28 anni la Germania Est da quella dell'Ovest?</p> <p>a) 1989 b) 1992 c) 1971</p>
28.	<p>Stabiliti i valori di seguito riportati, individuate quale delle tre operazioni con tali valori dà come risultato il numero riportato fra parentesi tonde. Date la risposta annerendo la casella corrispondente.</p> <p>$6 \mid 5 \mid 8 \mid 2 \quad (10)$</p> <p>a) $5 + 8 - (6 : 2)$ b) $(6 : 2) \times 5 + 8$ c) $(8 + 6 - 5) \times 2$</p>
29.	<p>Individuate, fra le tre alternative proposte, la parola di significato contrario al termine riportato in alto. Date la risposta annerendo la casella corrispondente.</p> <p style="text-align: center;">CEDEVOL</p> <p>a) RESISTENTE b) INVISIO c) ATTINENTE</p>
30.	<p>Quanti furono i re di Roma?</p> <p>a) 2 b) 9 c) 7</p>

31.	<p>Basandovi sulla successione delle lettere dell'alfabeto italiano, individuate quale delle alternative da (a) a (c) può logicamente sostituire il punto di domanda, o uno dei punti di domanda, nel gruppo di lettere riportato di seguito. Date la risposta annerendo la casella corrispondente.</p> <div style="text-align: center;"> <p>A B E F</p> <p>? L O P S</p> <p>T Z A D</p> </div> <p>a) D b) I c) H</p>
32.	<p>Vienna è nota per avere ospitato...</p> <p>a) molti tra i maggiori compositori del XVIII e del XIX secolo</p> <p>b) i maggiori artigiani tessili del mondo</p> <p>c) la più grande fiera di tappi in sughero del mondo</p>
33.	<p>Individuate in quale delle righe da (a) a (c) i due insiemi di simboli non sono formati esattamente dagli stessi elementi, anche se diversamente disposti. Date la risposta annerendo la casella corrispondente.</p> <p>a) </p> <p>b) </p> <p>c) </p>
34.	<p>L'Osservatorio di Greenwich si trova in...</p> <p>a) Germania</p> <p>b) Nuova Zelanda</p> <p>c) Inghilterra</p>
35.	<p>Stabiliti i valori di seguito riportati, individuate quale delle tre operazioni con tali valori dà come risultato il numero riportato fra parentesi tonde. Date la risposta annerendo la casella corrispondente.</p> <p>8 2 7 3 (17)</p> <p>a) $(7 + 3 - 8) \times 2$</p> <p>b) $(8 - 2) \times 3 - 7$</p> <p>c) $(7 \times 3) - (8 : 2)$</p>
36.	<p>Dove nacque Pirandello?</p> <p>a) Agrigento</p> <p>b) Milano</p> <p>c) Napoli</p>

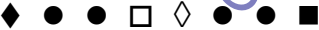





37.	<p>Basandovi sulla successione delle lettere dell'alfabeto italiano, individuate quale delle alternative da (a) a (c) può logicamente sostituire il punto di domanda, o uno dei punti di domanda, nel gruppo di lettere riportato di seguito. Date la risposta annerendo la casella corrispondente.</p> <div style="text-align: center; margin: 20px 0;"> A B ? C E F G H I L M ? O </div> <p>a) F b) C c) D</p>
38.	<p>Qual è lo Stato più piccolo d'Europa?</p> <p>a) Liechtenstein b) Città del Vaticano c) Principato di Monaco</p>
39.	<p>Individuate, fra le tre alternative proposte, la parola di significato contrario al termine riportato in alto. Date la risposta annerendo la casella corrispondente.</p> <p style="text-align: center;"><i>DILIGENZA</i></p> <p>a) NEGLIGENZA b) APPARENZA c) INSOLENZA</p>
40.	<p>Come morì Maximilien de Robespierre?</p> <p>a) Avvelenato b) Ghigliottinato c) Accoltellato</p>
41.	<p>Stabiliti i valori di seguito riportati, individuate quale delle tre operazioni con tali valori dà come risultato il numero riportato fra parentesi tonde. Date la risposta annerendo la casella corrispondente.</p> <p style="margin-left: 20px;">$6 \mid 3 \mid 1 \mid 9 \quad (2,5)$</p> <p>a) $(6 : 3) - (9 \times 1)$ b) $(1 \times 9) \times 3 - 6$ c) $3 + 1 - (9 : 6)$</p>
42.	<p>Individuate in quale delle righe da (a) a (c) i due insiemi di simboli non sono formati esattamente dagli stessi elementi, anche se diversamente disposti. Date la risposta annerendo la casella corrispondente.</p> <div style="display: flex; justify-content: space-between; align-items: flex-start;"> <div style="width: 45%;"> <p>a) ● ■ ■ ◆</p> <p>b) ● ◇ ● □</p> <p>c) ■ ◆ ◇ ●</p> </div> <div style="width: 45%;"> <p>■ ◆ ● ■</p> <p>● ◇ □ ●</p> <p>● ■ □ ◆</p> </div> </div>

43.	<p>Individuate, fra le tre alternative proposte, la parola di significato contrario al termine riportato in alto. Date la risposta annerendo la casella corrispondente.</p> <p><i>INDULGENTE</i></p> <p>a) SEVERO</p> <p>b) VERSATILE</p> <p>c) CONTORTO</p>												
44.	<p>Stabiliti i valori di seguito riportati, individuate quale delle tre operazioni con tali valori dà come risultato il numero riportato fra parentesi tonde. Date la risposta annerendo la casella corrispondente.</p> <p>$7 \mid 2 \mid 15 \mid 4 \mid 6 \quad (8,5)$</p> <p>a) $(15 - 4 + 6 - 7) \times 2$</p> <p>b) $15 - (6 : 2) \times 4 + 7$</p> <p>c) $2 + 15 - 7 - (6 : 4)$</p>												
45.	<p>Individuate in quale delle righe da (a) a (c) i due insiemi di simboli non sono formati esattamente dagli stessi elementi, anche se diversamente disposti. Date la risposta annerendo la casella corrispondente.</p> <p>a) ● ■ ● ● ◆ ● ◆ ● ■ ●</p> <p>b) ◇ ■ ◆ □ ● ■ ● □ ● ◇</p> <p>c) ■ ■ □ ◇ ■ □ ■ ■ ■ ◇</p>												
46.	<p>Individuate, fra le tre alternative proposte, la parola di significato contrario al termine riportato in alto. Date la risposta annerendo la casella corrispondente.</p> <p><i>INCENSURATO</i></p> <p>a) DEVOTO</p> <p>b) SPAVALDO</p> <p>c) PREGIUDICATO</p>												
47.	<p>John Fitzgerald Kennedy venne assassinato nel...</p> <p>a) 1963</p> <p>b) 1972</p> <p>c) 1957</p>												
48.	<p>Basandovi sulla successione delle lettere dell'alfabeto italiano, individuate quale delle alternative da (a) a (c) può logicamente sostituire il punto di domanda, o uno dei punti di domanda, nel gruppo di lettere riportato di seguito. Date la risposta annerendo la casella corrispondente.</p> <table border="0" style="width: 100%; text-align: center;"> <tr> <td></td> <td>B</td> <td>D</td> <td>F</td> </tr> <tr> <td>H</td> <td>?</td> <td>N</td> <td>P</td> </tr> <tr> <td></td> <td>R</td> <td>?</td> <td>V</td> </tr> </table> <p>a) L</p> <p>b) U</p> <p>c) I</p>		B	D	F	H	?	N	P		R	?	V
	B	D	F										
H	?	N	P										
	R	?	V										

49.	<p>Individuate in quale delle righe da (a) a (c) i due insiemi di simboli non sono formati esattamente dagli stessi elementi, anche se diversamente disposti. Date la risposta annerendo la casella corrispondente.</p> <p>a) $\blacklozenge \bullet \bullet \square \diamond \bullet \bullet \blacksquare$ $\diamond \bullet \blacksquare \bullet \square \blacklozenge \bullet \bullet$</p> <p>b) $\blacksquare \blacksquare \bullet \blacksquare \bullet \square \square \diamond$ $\bullet \square \blacksquare \blacksquare \blacksquare \diamond \square \bullet$</p> <p>c) $\square \square \blacksquare \bullet \bullet \diamond \blacklozenge \bullet$ $\diamond \bullet \bullet \blacklozenge \square \blacksquare \square \square$</p>
50.	<p>Dove si sviluppò il movimento politico chiamato "Cartismo"?</p> <p>a) Germania</p> <p>b) Inghilterra</p> <p>c) Francia</p>
51.	<p>Individuate, fra le tre alternative proposte, la parola di significato contrario al termine riportato in alto. Date la risposta annerendo la casella corrispondente.</p> <p>MENDACE</p> <p>a) VERITIERO</p> <p>b) VIVACE</p> <p>c) INCONSUETO</p>
52.	<p>Basandovi sulla successione delle lettere dell'alfabeto italiano, individuate quale delle alternative da (a) a (c) può logicamente sostituire il punto di domanda, o uno dei punti di domanda, nel gruppo di lettere riportato di seguito. Date la risposta annerendo la casella corrispondente.</p> <p style="text-align: center;"> $\begin{matrix} & L & & N & & I & & O \\ H & & P & & G & & ? & & F \\ & R & & ? & & S & & D \end{matrix}$ </p> <p>a) M</p> <p>b) L</p> <p>c) Q</p>
53.	<p>Il 'Cantico delle creature' è un testo poetico scritto intorno al 1225 da...</p> <p>a) Francesco d'Assisi</p> <p>b) Francesco Petrarca</p> <p>c) Guittone d'Arezzo</p>
54.	<p>Stabiliti i valori di seguito riportati, individuate quale delle tre operazioni con tali valori dà come risultato il numero riportato fra parentesi tonde. Date la risposta annerendo la casella corrispondente.</p> <p>$2 \mid 5 \mid 4 \mid 1 \quad (-6)$</p> <p>a) $4 - 2 \times (5 + 1)$</p> <p>b) $5 + 4 - 1 + 2$</p> <p>c) $4 - (2 : 1) \times 5$</p>

55.	<p>Individuate in quale delle righe da (a) a (c) i due insiemi di simboli non sono formati esattamente dagli stessi elementi, anche se diversamente disposti. Date la risposta annerendo la casella corrispondente.</p> <p>a) ● ◆ □ ■ ● ◇ ◆ ◇ ■ ● □ ◇ ◆ ●</p> <p>b) ● □ □ □ ■ ◆ ◇ ◆ □ ● □ ■ ◇ □</p> <p>c) ● □ ■ ● ◇ ◆ ● ■ ● ● ◆ □ ● ◇</p>
56.	<p>Individuate, fra le tre alternative proposte, la parola di significato contrario al termine riportato in alto. Date la risposta annerendo la casella corrispondente.</p> <p>IMPAVIDO</p> <p>a) INVISO</p> <p>b) PAUROSO</p> <p>c) INERTE</p>
57.	<p>Il Triangolo delle Bermude si trova...</p> <p>a) nell'oceano Atlantico</p> <p>b) nell'oceano Indiano</p> <p>c) nell'oceano Pacifico</p>
58.	<p>Basandovi sulla successione delle lettere dell'alfabeto italiano, individuate quale delle alternative da (a) a (c) può logicamente sostituire il punto di domanda, o uno dei punti di domanda, nel gruppo di lettere riportato di seguito. Date la risposta annerendo la casella corrispondente.</p> <p style="text-align: center;"> A F M R Z E ? Q V D ? P </p> <p>a) N</p> <p>b) L</p> <p>c) S</p>
59.	<p>Joann Gutenberg è diventato famoso per...</p> <p>a) aver tradotto e trascritto l'Iliade e l'Odissea</p> <p>b) aver interpretato la scrittura cuneiforme</p> <p>c) aver inventato la stampa a caratteri mobili</p>
60.	<p>Stabiliti i valori di seguito riportati, individuate quale delle tre operazioni con tali valori dà come risultato il numero riportato fra parentesi tonde. Date la risposta annerendo la casella corrispondente.</p> <p>7 10 3 4 (19)</p> <p>a) $(3 \times 7) - (10 : 4)$</p> <p>b) $10 - 7 + (4 \times 3)$</p> <p>c) $(10 \times 3) - 7 - 4$</p>

1.	<p>Individuate, fra le tre alternative proposte, la parola di significato contrario al termine riportato in alto. Date la risposta annerendo la casella corrispondente.</p> <p>MENDACE</p> <p>a) VERITIERO</p> <p>b) VIVACE</p> <p>c) INCONSUETO</p>
2.	<p>Il 'Cantico delle creature' è un testo poetico scritto intorno al 1225 da...</p> <p>a) Francesco d'Assisi</p> <p>b) Francesco Petrarca</p> <p>c) Guittone d'Arezzo</p>
3.	<p>Basandovi sulla successione delle lettere dell'alfabeto italiano, individuate quale delle alternative da (a) a (c) può logicamente sostituire il punto di domanda, o uno dei punti di domanda, nel gruppo di lettere riportato di seguito. Date la risposta annerendo la casella corrispondente.</p> <div style="text-align: center; margin: 10px 0;"> C A U Z D B T ? </div> <div style="text-align: center; margin: 10px 0;"> E S F R </div> <p>a) Q</p> <p>b) V</p> <p>c) O</p>
4.	<p>Stabiliti i valori di seguito riportati, individuate quale delle tre operazioni con tali valori dà come risultato il numero riportato fra parentesi tonde. Date la risposta annerendo la casella corrispondente.</p> <p>$2 \mid 8 \mid 11 \mid 5 \quad (0)$</p> <p>a) $(8 - 11 + 5) \times 2$</p> <p>b) $11 - 5 - (8 - 2)$</p> <p>c) $(8 : 2) \times 5 - 11$</p>
5.	<p>Individuate in quale delle righe da (a) a (c) i due insiemi di simboli non sono formati esattamente dagli stessi elementi, anche se diversamente disposti. Date la risposta annerendo la casella corrispondente.</p> <div style="display: flex; justify-content: space-between; margin-top: 10px;"> <div style="width: 45%;"> <p>a) ● ■ ● ● ◆</p> <p>b) ◇ ■ ◆ □ ●</p> <p>c) ■ ■ □ ◇ ■</p> </div> <div style="width: 45%;"> <p>● ◆ ● ■ ●</p> <p>■ ● □ ● ◇</p> <p>□ ■ ■ ■ ◇</p> </div> </div>
6.	<p>Individuate, fra le tre alternative proposte, la parola di significato contrario al termine riportato in alto. Date la risposta annerendo la casella corrispondente.</p> <p>MANUALE</p> <p>a) MANIFATTURIERO</p> <p>b) MECCANICO</p> <p>c) SPETTRALE</p>







7.	<p>John Fitzgerald Kennedy venne assassinato nel...</p> <p>a) 1963</p> <p>b) 1972</p> <p>c) 1957</p>
8.	<p>Stabiliti i valori di seguito riportati, individuate quale delle tre operazioni con tali valori dà come risultato il numero riportato fra parentesi tonde. Date la risposta annerendo la casella corrispondente.</p> <p>$8 \mid 2 \mid 7 \mid 3 \quad (17)$</p> <p>a) $(7 + 3 - 8) \times 2$</p> <p>b) $(8 - 2) \times 3 - 7$</p> <p>c) $(7 \times 3) - (8 + 2)$</p>
9.	<p>Individuate in quale delle righe da (a) a (c) i due insiemi di simboli non sono formati esattamente dagli stessi elementi, anche se diversamente disposti. Date la risposta annerendo la casella corrispondente.</p> <p>a)  </p> <p>b)  </p> <p>c)  </p>
10.	<p>Quale fu la prima Capitale d'Italia?</p> <p>a) Genova</p> <p>b) Roma</p> <p>c) Torino</p>
11.	<p>Basandovi sulla successione delle lettere dell'alfabeto italiano, individuate quale delle alternative da (a) a (c) può logicamente sostituire il punto di domanda, o uno dei punti di domanda, nel gruppo di lettere riportato di seguito. Date la risposta annerendo la casella corrispondente.</p> <p style="text-align: center;"> L N I O </p> <p style="text-align: center;"> H P G ? F </p> <p style="text-align: center;"> R ? S D </p> <p>a) M</p> <p>b) L</p> <p>c) Q</p>
12.	<p>Dove si sviluppò il movimento politico chiamato "Cartismo"?</p> <p>a) Germania</p> <p>b) Inghilterra</p> <p>c) Francia</p>

13.	<p>Basandovi sulla successione delle lettere dell'alfabeto italiano, individuate quale delle alternative da (a) a (c) può logicamente sostituire il punto di domanda, o uno dei punti di domanda, nel gruppo di lettere riportato di seguito. Date la risposta annerendo la casella corrispondente.</p> <div style="text-align: center; margin: 20px 0;"> T V ? C </div> <div style="text-align: center; margin: 10px 0;"> M I G E </div> <div style="text-align: center; margin: 10px 0;"> O ? S U </div> <p>a) A b) E c) N</p>
14.	<p>Individuate, fra le tre alternative proposte, la parola di significato contrario al termine riportato in alto. Date la risposta annerendo la casella corrispondente.</p> <p style="text-align: center; margin: 10px 0;"><i>IMPAVIDO</i></p> <p>a) INVISIO b) PAUROSO c) INERTE</p>
15.	<p>Stabiliti i valori di seguito riportati, individuate quale delle tre operazioni con tali valori dà come risultato il numero riportato fra parentesi tonde. Date la risposta annerendo la casella corrispondente.</p> <p style="margin: 10px 0;">5 2 7 (14)</p> <p>a) $7 + 5 + 2$ b) $7 - 2 + 5$ c) $2 - (7 : 5)$</p>
16.	<p>Qual è lo Stato più piccolo d'Europa?</p> <p>a) Liechtenstein b) Città del Vaticano c) Principato di Monaco</p>
17.	<p>Individuate in quale delle righe da (a) a (c) i due insiemi di simboli non sono formati esattamente dagli stessi elementi, anche se diversamente disposti. Date la risposta annerendo la casella corrispondente.</p> <div style="display: flex; justify-content: space-between; margin-top: 10px;"> <div style="width: 45%;"> <p>a) ● ■ ■ ◆</p> <p>b) ● ◇ ● □</p> <p>c) ■ ◆ ◇ ●</p> </div> <div style="width: 45%;"> <p>■ ◆ ● ■</p> <p>● ◇ □ ●</p> <p>● ■ □ ◆</p> </div> </div>
18.	<p>Come morì Maximilien de Robespierre?</p> <p>a) Avvelenato b) Ghigliottinato c) Accoltellato</p>



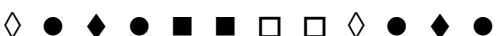



19.	<p>Individuate, fra le tre alternative proposte, la parola di significato contrario al termine riportato in alto. Date la risposta annerendo la casella corrispondente.</p> <p>INDULGENTE</p> <p>a) SEVERO</p> <p>b) VERSATILE</p> <p>c) CONTORTO</p>															
20.	<p>Il Triangolo delle Bermude si trova...</p> <p>a) nell'oceano Atlantico</p> <p>b) nell'oceano Indiano</p> <p>c) nell'oceano Pacifico</p>															
21.	<p>Individuate in quale delle righe da (a) a (c) i due insiemi di simboli non sono formati esattamente dagli stessi elementi, anche se diversamente disposti. Date la risposta annerendo la casella corrispondente.</p> <p>a) ● ◆ □ ■ ● ◇ ◆ ◇ ■ ● □ ◇ ◆ ●</p> <p>b) ● □ □ □ ■ ◆ ◇ ◆ □ ● □ ■ ◇ □</p> <p>c) ● □ ■ ● ◇ ◆ ● ■ ● ● ◆ □ ● ◇</p>															
22.	<p>Stabiliti i valori di seguito riportati, individuate quale delle tre operazioni con tali valori dà come risultato il numero riportato fra parentesi tonde. Date la risposta annerendo la casella corrispondente.</p> <p>7 10 3 4 (19)</p> <p>a) $(3 \times 7) - (10 : 4)$</p> <p>b) $10 - 7 + (4 \times 3)$</p> <p>c) $(10 \times 3) - 7 - 4$</p>															
23.	<p>Basandovi sulla successione delle lettere dell'alfabeto italiano, individuate quale delle alternative da (a) a (c) può logicamente sostituire il punto di domanda, o uno dei punti di domanda, nel gruppo di lettere riportato di seguito. Date la risposta annerendo la casella corrispondente.</p> <table border="0" style="margin-left: auto; margin-right: auto;"> <tr> <td></td> <td>A</td> <td>F</td> <td>M</td> <td>R</td> </tr> <tr> <td>Z</td> <td>E</td> <td>?</td> <td>Q</td> <td></td> </tr> <tr> <td>V</td> <td>D</td> <td>?</td> <td>P</td> <td></td> </tr> </table> <p>a) N</p> <p>b) L</p> <p>c) S</p>		A	F	M	R	Z	E	?	Q		V	D	?	P	
	A	F	M	R												
Z	E	?	Q													
V	D	?	P													
24.	<p>Vienna è nota per avere ospitato...</p> <p>a) molti tra i maggiori compositori del XVIII e del XIX secolo</p> <p>b) i maggiori artigiani tessili del mondo</p> <p>c) la più grande fiera di tappi in sughero del mondo</p>															

25.	<p>Individuate in quale delle righe da (a) a (c) i due insiemi di simboli non sono formati esattamente dagli stessi elementi, anche se diversamente disposti. Date la risposta annerendo la casella corrispondente.</p> <p>a) ● ● ● ● □ □ ◇ ◇ ● ● ● □ ◇ ● □ ◇</p> <p>b) □ ● □ ● □ ● ◇ ◆ ● ● ● ◇ □ □ ◆ ●</p> <p>c) ◇ ◇ ◇ ■ □ ● ● ● ● ■ ◇ ◇ ● □ ● ◇</p>
26.	<p>Dove nacque Pirandello?</p> <p>a) Agrigento</p> <p>b) Milano</p> <p>c) Napoli</p>
27.	<p>Stabiliti i valori di seguito riportati, individuate quale delle tre operazioni con tali valori dà come risultato il numero riportato fra parentesi tonde. Date la risposta annerendo la casella corrispondente.</p> <p>6 3 1 9 (2,5)</p> <p>a) $(6 : 3) - (9 \times 1)$</p> <p>b) $(1 \times 9) \times 3 - 6$</p> <p>c) $3 + 1 - (9 : 6)$</p>
28.	<p>Basandovi sulla successione delle lettere dell'alfabeto italiano, individuate quale delle alternative da (a) a (c) può logicamente sostituire il punto di domanda, o uno dei punti di domanda, nel gruppo di lettere riportato di seguito. Date la risposta annerendo la casella corrispondente.</p> <p style="text-align: center;"> B D F H ? N P R ? V </p> <p>a) L</p> <p>b) U</p> <p>c) I</p>
29.	<p>Individuate, fra le tre alternative proposte, la parola di significato contrario al termine riportato in alto. Date la risposta annerendo la casella corrispondente.</p> <p style="text-align: center;">INDIGENZA</p> <p>a) OPULENZA</p> <p>b) DIGERIBILITÀ</p> <p>c) TURBOLENZA</p>
30.	<p>L'Orlando Furioso è stato scritto da...</p> <p>a) Ariosto</p> <p>b) Petrarca</p> <p>c) Leopardi</p>

31.	<p>Joann Gutenberg è diventato famoso per...</p> <p>a) aver tradotto e trascritto l'Iliade e l'Odissea</p> <p>b) aver interpretato la scrittura cuneiforme</p> <p>c) aver inventato la stampa a caratteri mobili</p>
32.	<p>Stabiliti i valori di seguito riportati, individuate quale delle tre operazioni con tali valori dà come risultato il numero riportato fra parentesi tonde. Date la risposta annerendo la casella corrispondente.</p> <p>7 2 15 4 6 (8,5)</p> <p>a) $(15 - 4 + 6 - 7) \times 2$</p> <p>b) $15 - (6 : 2) \times 4 + 7$</p> <p>c) $2 + 15 - 7 - (6 : 4)$</p>
33.	<p>Individuate, fra le tre alternative proposte, la parola di significato contrario al termine riportato in alto. Date la risposta annerendo la casella corrispondente.</p> <p>INCENSURATO</p> <p>a) DEVOTO</p> <p>b) SPAVALDO</p> <p>c) PREGIUDICATO</p>
34.	<p>Indica il sinonimo di 'Ineluttabile'...</p> <p>a) Indicibile</p> <p>b) Insopportabile</p> <p>c) Inevitabile</p>
35.	<p>Basandovi sulla successione delle lettere dell'alfabeto italiano, individuate quale delle alternative da (a) a (c) può logicamente sostituire il punto di domanda, o uno dei punti di domanda, nel gruppo di lettere riportato di seguito. Date la risposta annerendo la casella corrispondente.</p> <div style="text-align: center;"> <p>B E H M</p> <p>A ? G L Q</p> <p>C F I ?</p> </div> <p>a) F</p> <p>b) C</p> <p>c) D</p>
36.	<p>Individuate in quale delle righe da (a) a (c) i due insiemi di simboli non sono formati esattamente dagli stessi elementi, anche se diversamente disposti. Date la risposta annerendo la casella corrispondente.</p> <p>a) $\diamond \blacksquare \blacksquare \bullet \blacklozenge \bullet \square \blacksquare \diamond \square \bullet$ $\bullet \bullet \bullet \blacksquare \diamond \square \square \blacksquare \diamond \blacklozenge \blacksquare$</p> <p>b) $\square \square \square \diamond \blacksquare \blacksquare \bullet \bullet \diamond \square \bullet$ $\bullet \blacksquare \diamond \square \bullet \square \bullet \blacksquare \diamond \square \square$</p> <p>c) $\blacksquare \square \diamond \diamond \bullet \bullet \square \bullet \blacksquare \diamond \blacklozenge$ $\bullet \bullet \bullet \blacklozenge \diamond \blacksquare \blacksquare \square \diamond \square \square$</p>

37.	<p>Quanti furono i re di Roma?</p> <p>a) 2</p> <p>b) 9</p> <p>c) 7</p>
38.	<p>Individuate in quale delle righe da (a) a (c) i due insiemi di simboli non sono formati esattamente dagli stessi elementi, anche se diversamente disposti. Date la risposta annerendo la casella corrispondente.</p> <p>a)  </p> <p>b)  </p> <p>c)  </p>
39.	<p>Basandovi sulla successione delle lettere dell'alfabeto italiano, individuate quale delle alternative da (a) a (c) può logicamente sostituire il punto di domanda, o uno dei punti di domanda, nel gruppo di lettere riportato di seguito. Date la risposta annerendo la casella corrispondente.</p> <p style="text-align: center;"> A B E F </p> <p style="text-align: center;"> ? L O P S </p> <p style="text-align: center;"> T Z A D </p> <p>a) D</p> <p>b) I</p> <p>c) H</p>
40.	<p>Quale tra questi non è un pesce di mare?</p> <p>a) Luccio</p> <p>b) Tonno</p> <p>c) Merluzzo</p>
41.	<p>Individuate, fra le tre alternative proposte, la parola di significato contrario al termine riportato in alto. Date la risposta annerendo la casella corrispondente.</p> <p style="text-align: center;"><i>CEDEVOL</i></p> <p>a) RESISTENTE</p> <p>b) INVISO</p> <p>c) ATTINENTE</p>
42.	<p>Stabiliti i valori di seguito riportati, individuate quale delle tre operazioni con tali valori dà come risultato il numero riportato fra parentesi tonde. Date la risposta annerendo la casella corrispondente.</p> <p style="text-align: center;">6 5 8 2 (10)</p> <p>a) $5 + 8 - (6 : 2)$</p> <p>b) $(6 : 2) \times 5 + 8$</p> <p>c) $(8 + 6 - 5) \times 2$</p>

43.	<p>Individuate in quale delle righe da (a) a (c) i due insiemi di simboli non sono formati esattamente dagli stessi elementi, anche se diversamente disposti. Date la risposta annerendo la casella corrispondente.</p> <p>a) ● ◆ □ □ ◇ ◆ ● ■ □ ◇ ◆ ◆ □ ● ◇ □ □ ● ■ □</p> <p>b) □ ■ ◆ ■ ● ◇ ◇ ● ● □ ● ◇ □ ■ ◇ ◆ ● □ ■ ●</p> <p>c) ■ ■ ■ ◇ □ ◆ ◆ ● ● □ □ □ ■ ◆ ◇ ● ■ ◆ ● ■</p>
44.	<p>Come si chiama il poeta che accompagna Dante nella Divina Commedia?</p> <p>a) Virgilio</p> <p>b) Platone</p> <p>c) Aristotele</p>
45.	<p>Stabiliti i valori di seguito riportati, individuate quale delle tre operazioni con tali valori dà come risultato il numero riportato fra parentesi tonde. Date la risposta annerendo la casella corrispondente.</p> <p>$12 \mid 5 \mid 9 \mid 1 \mid 3 \quad (11)$</p> <p>a) $(9 : 3) \times 5 - 12 + 1$</p> <p>b) $12 - 5 \times (3 - 1) + 9$</p> <p>c) $(9 \times 5) \times 1 - (12 - 3)$</p>
46.	<p>Individuate in quale delle righe da (a) a (c) i due insiemi di simboli non sono formati esattamente dagli stessi elementi, anche se diversamente disposti. Date la risposta annerendo la casella corrispondente.</p> <p>a) ■ ■ ◇ ● ◆ ● ■ ■ ■ □ ◇ ◇ ◇ ■ ■ □ ■ ■ ● ■ ◆ ●</p> <p>b) ◆ ◆ ● □ ◇ ■ ■ ● □ ◇ ◆ ● ◇ ◇ ◆ □ ■ ◇ ● ◆ □ ■</p> <p>c) □ ◇ ● ● ◆ ◇ ● ● ● ■ □ ◇ ■ ● ● ● ● ◇ □ □ ● ◆</p>
47.	<p>Individuate, fra le tre alternative proposte, la parola di significato contrario al termine riportato in alto. Date la risposta annerendo la casella corrispondente.</p> <p><i>DILIGENZA</i></p> <p>a) NEGLIGENZA</p> <p>b) APPARENZA</p> <p>c) INSOLENZA</p>
48.	<p>In quale anno l'Italia è entrata a far parte dell'ONU?</p> <p>a) 1955</p> <p>b) 1969</p> <p>c) 1944</p>

49.	<p>Basandovi sulla successione delle lettere dell'alfabeto italiano, individuate quale delle alternative da (a) a (c) può logicamente sostituire il punto di domanda, o uno dei punti di domanda, nel gruppo di lettere riportato di seguito. Date la risposta annerendo la casella corrispondente.</p> <p style="text-align: center;"> U R O L G D A U ? O L G </p> <p>a) L b) R c) S</p>
50.	<p>Qual è il passato remoto, prima persona singolare, del verbo "sorseggiare"?</p> <p>a) io sorseggerei b) io ebbi sorseggiato c) io sorseggiai</p>
51.	<p>Stabiliti i valori di seguito riportati, individuate quale delle tre operazioni con tali valori dà come risultato il numero riportato fra parentesi tonde. Date la risposta annerendo la casella corrispondente.</p> <p>4 7 3 1 8 (0)</p> <p>a) $(7 - 4) \times 3 - (8 + 1)$ b) $8 - (7 - 3) \times 4 - 1$ c) $(8 : 4) \times 7 - 3 + 1$</p>
52.	<p>Individuate, fra le tre alternative proposte, la parola di significato contrario al termine riportato in alto. Date la risposta annerendo la casella corrispondente.</p> <p style="text-align: center;"><i>SAPIDO</i></p> <p>a) STOLTO b) SCIPITO c) INESPERTO</p>
53.	<p>Quando cadde il muro di Berlino, che divise per 28 anni la Germania Est da quella dell'Ovest?</p> <p>a) 1989 b) 1992 c) 1971</p>
54.	<p>Individuate in quale delle righe da (a) a (c) i due insiemi di simboli non sono formati esattamente dagli stessi elementi, anche se diversamente disposti. Date la risposta annerendo la casella corrispondente.</p> <p>a)  </p> <p>b)  </p> <p>c)  </p>

55.	<p>Basandovi sulla successione delle lettere dell'alfabeto italiano, individuate quale delle alternative da (a) a (c) può logicamente sostituire il punto di domanda, o uno dei punti di domanda, nel gruppo di lettere riportato di seguito. Date la risposta annerendo la casella corrispondente.</p> <p style="text-align: center;"> H ? ? B D R G U N C Q F </p> <p>a) I b) V c) Z</p>
56.	<p>La città di Taranto si affaccia...</p> <p>a) sul mare Ionio b) sul mare Adriatico c) sul mare Tirreno</p>
57.	<p>Individuate, fra le tre alternative proposte, la parola di significato contrario al termine riportato in alto. Date la risposta annerendo la casella corrispondente.</p> <p style="text-align: center;"><i>IMPERVIO</i></p> <p>a) ACCESSIBILE b) IMPRATICABILE c) INGENTE</p>
58.	<p>L'Osservatorio di Greenwich si trova in...</p> <p>a) Germania b) Nuova Zelanda c) Inghilterra</p>
59.	<p>Basandovi sulla successione delle lettere dell'alfabeto italiano, individuate quale delle alternative da (a) a (c) può logicamente sostituire il punto di domanda, o uno dei punti di domanda, nel gruppo di lettere riportato di seguito. Date la risposta annerendo la casella corrispondente.</p> <p style="text-align: center;"> V S P M Z ? Q N U R O ? </p> <p>a) L b) Q c) H</p>
60.	<p>Stabiliti i valori di seguito riportati, individuate quale delle tre operazioni con tali valori dà come risultato il numero riportato fra parentesi tonde. Date la risposta annerendo la casella corrispondente.</p> <p style="text-align: center;">$2 \mid 5 \mid 4 \mid 1 \quad (-6)$</p> <p>a) $4 - 2 \times (5 + 1)$ b) $5 + 4 - 1 + 2$ c) $4 - (2 : 1) \times 5$</p>







1.	<p>Basandovi sulla successione delle lettere dell'alfabeto italiano, individuate quale delle alternative da (a) a (c) può logicamente sostituire il punto di domanda, o uno dei punti di domanda, nel gruppo di lettere riportato di seguito. Date la risposta annerendo la casella corrispondente.</p> <table style="width: 100%; text-align: center;"> <tr> <td></td> <td>A</td> <td>F</td> <td>M</td> <td>R</td> </tr> <tr> <td>Z</td> <td>E</td> <td>?</td> <td>Q</td> <td></td> </tr> <tr> <td>V</td> <td>D</td> <td>?</td> <td>P</td> <td></td> </tr> </table> <p>a) N b) L c) S</p>		A	F	M	R	Z	E	?	Q		V	D	?	P	
	A	F	M	R												
Z	E	?	Q													
V	D	?	P													
2.	<p>Stabiliti i valori di seguito riportati, individuate quale delle tre operazioni con tali valori dà come risultato il numero riportato fra parentesi tonde. Date la risposta annerendo la casella corrispondente.</p> <p>$6 \mid 5 \mid 8 \mid 2 \quad (10)$</p> <p>a) $5 + 8 - (6 : 2)$ b) $(6 : 2) \times 5 + 8$ c) $(8 + 6 - 5) \times 2$</p>															
3.	<p>Individuate in quale delle righe da (a) a (c) i due insiemi di simboli non sono formati esattamente dagli stessi elementi, anche se diversamente disposti. Date la risposta annerendo la casella corrispondente.</p> <table style="width: 100%;"> <tr> <td style="width: 50%;">a) ● ◆ □ ■ ● ◇ ◆</td> <td style="width: 50%;">◇ ■ ● □ ◇ ◆ ●</td> </tr> <tr> <td>b) ● □ □ □ ■ ◆ ◇</td> <td>◆ □ ● □ ■ ◇ □</td> </tr> <tr> <td>c) ● □ ■ ● ◇ ◆ ●</td> <td>■ ● ● ◆ □ ● ◇</td> </tr> </table>	a) ● ◆ □ ■ ● ◇ ◆	◇ ■ ● □ ◇ ◆ ●	b) ● □ □ □ ■ ◆ ◇	◆ □ ● □ ■ ◇ □	c) ● □ ■ ● ◇ ◆ ●	■ ● ● ◆ □ ● ◇									
a) ● ◆ □ ■ ● ◇ ◆	◇ ■ ● □ ◇ ◆ ●															
b) ● □ □ □ ■ ◆ ◇	◆ □ ● □ ■ ◇ □															
c) ● □ ■ ● ◇ ◆ ●	■ ● ● ◆ □ ● ◇															
4.	<p>Dove si sviluppò il movimento politico chiamato "Cartismo"?</p> <p>a) Germania b) Inghilterra c) Francia</p>															
5.	<p>Individuate, fra le tre alternative proposte, la parola di significato contrario al termine riportato in alto. Date la risposta annerendo la casella corrispondente.</p> <p style="text-align: center;">MENDACE</p> <p>a) VERITIERO b) VIVACE c) INCONSUETO</p>															
6.	<p>Stabiliti i valori di seguito riportati, individuate quale delle tre operazioni con tali valori dà come risultato il numero riportato fra parentesi tonde. Date la risposta annerendo la casella corrispondente.</p> <p>$7 \mid 2 \mid 15 \mid 4 \mid 6 \quad (8,5)$</p> <p>a) $(15 - 4 + 6 - 7) \times 2$ b) $15 - (6 : 2) \times 4 + 7$ c) $2 + 15 - 7 - (6 : 4)$</p>															













COMUNE DI RAVENNA

13.	<p>Quando cadde il muro di Berlino, che divise per 28 anni la Germania Est da quella dell'Ovest?</p> <p>a) 1989</p> <p>b) 1992</p> <p>c) 1971</p>															
14.	<p>Individuate, fra le tre alternative proposte, la parola di significato contrario al termine riportato in alto. Date la risposta annerendo la casella corrispondente.</p> <p><i>SAPIDO</i></p> <p>a) STOLTO</p> <p>b) SCIPITO</p> <p>c) INESPERTO</p>															
15.	<p>Stabiliti i valori di seguito riportati, individuate quale delle tre operazioni con tali valori dà come risultato il numero riportato fra parentesi tonde. Date la risposta annerendo la casella corrispondente.</p> <p>$2 \mid 8 \mid 11 \mid 5 \quad (0)$</p> <p>a) $(8 - 11 + 5) \times 2$</p> <p>b) $11 - 5 - (8 - 2)$</p> <p>c) $(8 : 2) \times 5 - 11$</p>															
16.	<p>Quale tra questi non è un pesce di mare?</p> <p>a) Luccio</p> <p>b) Tonno</p> <p>c) Merluzzo</p>															
17.	<p>Basandovi sulla successione delle lettere dell'alfabeto italiano, individuate quale delle alternative da (a) a (c) può logicamente sostituire il punto di domanda, o uno dei punti di domanda, nel gruppo di lettere riportato di seguito. Date la risposta annerendo la casella corrispondente.</p> <table border="0" style="margin-left: auto; margin-right: auto;"> <tr> <td></td> <td>B</td> <td>E</td> <td>H</td> <td>M</td> </tr> <tr> <td>A</td> <td>?</td> <td>G</td> <td>L</td> <td>O</td> </tr> <tr> <td></td> <td>C</td> <td>F</td> <td>I</td> <td>?</td> </tr> </table> <p>a) F</p> <p>b) C</p> <p>c) D</p>		B	E	H	M	A	?	G	L	O		C	F	I	?
	B	E	H	M												
A	?	G	L	O												
	C	F	I	?												
18.	<p>L'Orlando Furioso è stato scritto da...</p> <p>a) Ariosto</p> <p>b) Petrarca</p> <p>c) Leopardi</p>															

19.	<p>Individuate, fra le tre alternative proposte, la parola di significato contrario al termine riportato in alto. Date la risposta annerendo la casella corrispondente.</p> <p>INDIGENZA</p> <p>a) OPULENZA</p> <p>b) DIGERIBILITÀ</p> <p>c) TURBOLENZA</p>
20.	<p>Quale fu la prima Capitale d'Italia?</p> <p>a) Genova</p> <p>b) Roma</p> <p>c) Torino</p>
21.	<p>Basandovi sulla successione delle lettere dell'alfabeto italiano, individuate quale delle alternative da (a) a (c) può logicamente sostituire il punto di domanda, o uno dei punti di domanda, nel gruppo di lettere riportato di seguito. Date la risposta annerendo la casella corrispondente.</p> <div style="text-align: center; margin: 10px 0;"> L N I O H P G ? F R ? S D </div> <p>a) M</p> <p>b) L</p> <p>c) Q</p>
22.	<p>Stabiliti i valori di seguito riportati, individuate quale delle tre operazioni con tali valori dà come risultato il numero riportato fra parentesi tonde. Date la risposta annerendo la casella corrispondente.</p> <p>4 7 3 1 8 (0)</p> <p>a) $(7 - 4) \times 3 - (8 + 1)$</p> <p>b) $8 - (7 - 3) \times 4 - 1$</p> <p>c) $(8 : 4) \times 7 - 3 + 1$</p>
23.	<p>Individuate in quale delle righe da (a) a (c) i due insiemi di simboli non sono formati esattamente dagli stessi elementi, anche se diversamente disposti. Date la risposta annerendo la casella corrispondente.</p> <div style="display: flex; justify-content: space-between; margin-top: 10px;"> <div style="width: 45%;"> <p>a) ◆ ● ● □ ◇ ● ● ■</p> <p>b) ■ ■ ● ■ ● □ □ ◇</p> <p>c) □ □ ■ ● ● ◇ ◆ ●</p> </div> <div style="width: 45%;"> <p>◇ ● ■ ● □ ◆ ● ●</p> <p>● □ ■ ■ ■ ◇ □ ●</p> <p>◇ ● ● ◆ □ ■ □ □</p> </div> </div>
24.	<p>Come si chiama il poeta che accompagna Dante nella Divina Commedia?</p> <p>a) Virgilio</p> <p>b) Platone</p> <p>c) Aristotele</p>

25.	<p>Basandovi sulla successione delle lettere dell'alfabeto italiano, individuate quale delle alternative da (a) a (c) può logicamente sostituire il punto di domanda, o uno dei punti di domanda, nel gruppo di lettere riportato di seguito. Date la risposta annerendo la casella corrispondente.</p> <p style="text-align: center;"> U R O L G D A U ? O L G </p> <p>a) L b) R c) S</p>
26.	<p>Qual è il passato remoto, prima persona singolare, del verbo "sorseggiare"?</p> <p>a) io sorseggerei b) io ebbi sorseggiato c) io sorseggiai</p>
27.	<p>Individuate in quale delle righe da (a) a (c) i due insiemi di simboli non sono formati esattamente dagli stessi elementi, anche se diversamente disposti. Date la risposta annerendo la casella corrispondente.</p> <p>a) ● ■ ■ ● ◇ □ ◆ ◆ ■ □ ■ ● □ ◆ ◇ ■ ● □ ◆ ■</p> <p>b) ● ● ● □ ● ◇ ◆ ◇ ● ◇ ● ● ● ◆ ● ◇ ◇ ● ◇ □</p> <p>c) ■ ◆ ◇ ■ □ □ ◆ ● ● ● □ ● ● ◆ ■ ◇ □ ● ● ■</p>
28.	<p>Individuate, fra le tre alternative proposte, la parola di significato contrario al termine riportato in alto. Date la risposta annerendo la casella corrispondente.</p> <p style="text-align: center;">MANUALE</p> <p>a) MANIFATTURIERO b) MECCANICO c) SPETTRALE</p>
29.	<p>Basandovi sulla successione delle lettere dell'alfabeto italiano, individuate quale delle alternative da (a) a (c) può logicamente sostituire il punto di domanda, o uno dei punti di domanda, nel gruppo di lettere riportato di seguito. Date la risposta annerendo la casella corrispondente.</p> <p style="text-align: center;"> H ? ? B D R G U N C Q F </p> <p>a) I b) V c) Z</p>
30.	<p>La città di Taranto si affaccia...</p> <p>a) sul mare Ionio b) sul mare Adriatico c) sul mare Tirreno</p>

31.	<p>Stabiliti i valori di seguito riportati, individuate quale delle tre operazioni con tali valori dà come risultato il numero riportato fra parentesi tonde. Date la risposta annerendo la casella corrispondente.</p> <p>$2 \mid 5 \mid 4 \mid 1 \quad (-6)$</p> <p>a) $4 - 2 \times (5 + 1)$ b) $5 + 4 - 1 + 2$ c) $4 - (2 : 1) \times 5$</p>
32.	<p>Individuate in quale delle righe da (a) a (c) i due insiemi di simboli non sono formati esattamente dagli stessi elementi, anche se diversamente disposti. Date la risposta annerendo la casella corrispondente.</p> <p>a)  </p> <p>b)  </p> <p>c)  </p>
33.	<p>Individuate, fra le tre alternative proposte, la parola di significato contrario al termine riportato in alto. Date la risposta annerendo la casella corrispondente.</p> <p><i>CEDEVOLE</i></p> <p>a) RESISTENTE b) INVISIO c) ATTINENTE</p>
34.	<p>Stabiliti i valori di seguito riportati, individuate quale delle tre operazioni con tali valori dà come risultato il numero riportato fra parentesi tonde. Date la risposta annerendo la casella corrispondente.</p> <p>$12 \mid 5 \mid 9 \mid 1 \mid 3 \quad (11)$</p> <p>a) $(9 : 3) \times 5 - 12 + 1$ b) $12 - 5 \times (3 - 1) + 9$ c) $(9 \times 5) \times 1 - (12 - 3)$</p>
35.	<p>In quale anno l'Italia è entrata a far parte dell'ONU?</p> <p>a) 1955 b) 1969 c) 1944</p>
36.	<p>Basandovi sulla successione delle lettere dell'alfabeto italiano, individuate quale delle alternative da (a) a (c) può logicamente sostituire il punto di domanda, o uno dei punti di domanda, nel gruppo di lettere riportato di seguito. Date la risposta annerendo la casella corrispondente.</p> <p style="text-align: center;"> A Z B ? C U D T E S F R </p> <p>a) Q b) V c) O</p>

37.	<p>Indica il sinonimo di 'Ineluttabile'...</p> <p>a) Indicibile</p> <p>b) Insopportabile</p> <p>c) Inevitabile</p>
38.	<p>Individuate in quale delle righe da (a) a (c) i due insiemi di simboli non sono formati esattamente dagli stessi elementi, anche se diversamente disposti. Date la risposta annerendo la casella corrispondente.</p> <p>a)  </p> <p>b)  </p> <p>c)  </p>
39.	<p>Quanti furono i re di Roma?</p> <p>a) 2</p> <p>b) 9</p> <p>c) 7</p>
40.	<p>Basandovi sulla successione delle lettere dell'alfabeto italiano, individuate quale delle alternative da (a) a (c) può logicamente sostituire il punto di domanda, o uno dei punti di domanda, nel gruppo di lettere riportato di seguito. Date la risposta annerendo la casella corrispondente.</p> <p style="text-align: center;"> A B E F </p> <p style="text-align: center;"> ? L O P S </p> <p style="text-align: center;"> T Z A D </p> <p>a) D</p> <p>b) I</p> <p>c) H</p>
41.	<p>Vienna è nota per avere ospitato...</p> <p>a) molti tra i maggiori compositori del XVIII e del XIX secolo</p> <p>b) i maggiori artigiani tessili del mondo</p> <p>c) la più grande fiera di tappi in sughero del mondo</p>
42.	<p>Individuate in quale delle righe da (a) a (c) i due insiemi di simboli non sono formati esattamente dagli stessi elementi, anche se diversamente disposti. Date la risposta annerendo la casella corrispondente.</p> <p>a)  </p> <p>b)  </p> <p>c)  </p>

43.	<p>Individuate, fra le tre alternative proposte, la parola di significato contrario al termine riportato in alto. Date la risposta annerendo la casella corrispondente.</p> <p>IMPERVIO</p> <p>a) ACCESSIBILE</p> <p>b) IMPRATICABILE</p> <p>c) INGENTE</p>
44.	<p>Come morì Maximilien de Robespierre?</p> <p>a) Avvelenato</p> <p>b) Ghigliottinato</p> <p>c) Accoltellato</p>
45.	<p>Individuate in quale delle righe da (a) a (c) i due insiemi di simboli non sono formati esattamente dagli stessi elementi, anche se diversamente disposti. Date la risposta annerendo la casella corrispondente.</p> <p>a) ● ■ ● ● ◆ ● ◆ ● ■ ●</p> <p>b) ◇ ■ ◆ □ ● ■ ● □ ● ◇</p> <p>c) ■ ■ □ ◇ ■ □ ■ ■ ■ ◇</p>
46.	<p>Individuate, fra le tre alternative proposte, la parola di significato contrario al termine riportato in alto. Date la risposta annerendo la casella corrispondente.</p> <p>DILIGENZA</p> <p>a) NEGLIGENZA</p> <p>b) APPARENZA</p> <p>c) INSOLENZA</p>
47.	<p>Basandovi sulla successione delle lettere dell'alfabeto italiano, individuate quale delle alternative da (a) a (c) può logicamente sostituire il punto di domanda, o uno dei punti di domanda, nel gruppo di lettere riportato di seguito. Date la risposta annerendo la casella corrispondente.</p> <p style="text-align: center;"> B D F H ? N P R ? V </p> <p>a) L</p> <p>b) U</p> <p>c) I</p>
48.	<p>Stabiliti i valori di seguito riportati, individuate quale delle tre operazioni con tali valori dà come risultato il numero riportato fra parentesi tonde. Date la risposta annerendo la casella corrispondente.</p> <p>7 10 3 4 (19)</p> <p>a) $(3 \times 7) - (10 : 4)$</p> <p>b) $10 - 7 + (4 \times 3)$</p> <p>c) $(10 \times 3) - 7 - 4$</p>

49.	<p>L'Osservatorio di Greenwich si trova in...</p> <p>a) Germania</p> <p>b) Nuova Zelanda</p> <p>c) Inghilterra</p>
50.	<p>Individuate, fra le tre alternative proposte, la parola di significato contrario al termine riportato in alto. Date la risposta annerendo la casella corrispondente.</p> <p>INDULGENTE</p> <p>a) SEVERO</p> <p>b) VERSATILE</p> <p>c) CONTORTO</p>
51.	<p>Qual è lo Stato più piccolo d'Europa?</p> <p>a) Liechtenstein</p> <p>b) Città del Vaticano</p> <p>c) Principato di Monaco</p>
52.	<p>Basandovi sulla successione delle lettere dell'alfabeto italiano, individuate quale delle alternative da (a) a (c) può logicamente sostituire il punto di domanda, o uno dei punti di domanda, nel gruppo di lettere riportato di seguito. Date la risposta annerendo la casella corrispondente.</p> <div style="text-align: center;"> <p>V S P M</p> <p>Z ? Q N</p> <p>U R O ?</p> </div> <p>a) L</p> <p>b) Q</p> <p>c) H</p>
53.	<p>Il 'Cantico delle creature' è un testo poetico scritto intorno al 1225 da...</p> <p>a) Francesco d'Assisi</p> <p>b) Francesco Petrarca</p> <p>c) Guittone d'Arezzo</p>
54.	<p>Stabiliti i valori di seguito riportati, individuate quale delle tre operazioni con tali valori dà come risultato il numero riportato fra parentesi tonde. Date la risposta annerendo la casella corrispondente.</p> <p>8 2 7 3 (17)</p> <p>a) $(7 + 3 - 8) \times 2$</p> <p>b) $(8 - 2) \times 3 - 7$</p> <p>c) $(7 \times 3) - (8 : 2)$</p>

55.	<p>Individuate, fra le tre alternative proposte, la parola di significato contrario al termine riportato in alto. Date la risposta annerendo la casella corrispondente.</p> <p>IMPAVIDO</p> <p>a) INVISO</p> <p>b) PAUOSO</p> <p>c) INERTE</p>
56.	<p>Dove nacque Pirandello?</p> <p>a) Agrigento</p> <p>b) Milano</p> <p>c) Napoli</p>
57.	<p>Individuate in quale delle righe da (a) a (c) i due insiemi di simboli non sono formati esattamente dagli stessi elementi, anche se diversamente disposti. Date la risposta annerendo la casella corrispondente.</p> <p>a) ● ■ ■ ◆ ■ ◆ ● ■</p> <p>b) ● ◇ ● □ ● ◇ □ ●</p> <p>c) ■ ◆ ◇ ● ● ■ □ ◆</p>
58.	<p>Individuate, fra le tre alternative proposte, la parola di significato contrario al termine riportato in alto. Date la risposta annerendo la casella corrispondente.</p> <p>INCENSURATO</p> <p>a) DEVOTO</p> <p>b) SPAVALDO</p> <p>c) PREGIUDICATO</p>
59.	<p>John Fitzgerald Kennedy venne assassinato nel...</p> <p>a) 1963</p> <p>b) 1972</p> <p>c) 1957</p>
60.	<p>Stabiliti i valori di seguito riportati, individuate quale delle tre operazioni con tali valori dà come risultato il numero riportato fra parentesi tonde. Date la risposta annerendo la casella corrispondente.</p> <p>5 2 7 (14)</p> <p>a) $7 + 5 + 2$</p> <p>b) $7 - 2 + 5$</p> <p>c) $2 - (7 : 5)$</p>